

南華大學九十三年學年度 碩士班 招生考試試題卷

碩
士
班

系所別：經濟學研究所

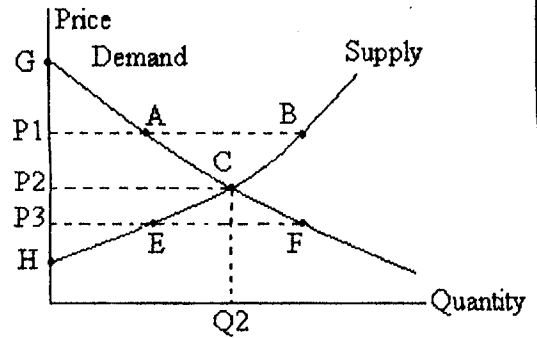
科目編號：A3-12-06

科 目：經濟學原理 【本科目不得使用計算機】

試題紙第 1 頁共 3 頁

單選題：(40 題，每題 2.5 分，答錯倒扣 1 分)

1. 從生產可能線上的一點移動到另一點表示 (A) 勞動投入增加 (B) 不同的產品組合 (C) 生產力提高 (D) 不同的要素組合 (E) 邊際成本遞減。
2. 下列何者會使私人汽車之需求線向右移動 (A) 計程車的行車費率提高 (B) 公共汽車的票價大幅降價 (C) 汽油價格上升 (D) 國民所得下降 (E) 汽車的生產技術進步使成本降低。
3. 下列何者會使牛肉的需求下降 (A) 所得增加，而牛肉是一種劣等財 (B) 豬肉價格上升，而豬肉是牛肉的替代品 (C) 牛肉價格上升 (D) 肉牛的飼料價格上漲 (E) 牛皮製品的需求上升，而牛皮與牛肉是聯合產品。
4. 禽流感盛行時，發現市場的雞肉價格不降反升，可能的原因是 (A) 國內需求雖然減少，但供給因大量進口而增加 (B) 國內需求雖然下降，但供給也因大量撲殺病死雞而減少 (C) 市場需求因出口至日本及香港等疫區而增加 (D) A 與 C (E) B 與 C。
5. 當遊樂區的票價降低，門票收入卻增加，可判斷該遊樂區所面對的需求線 (A) 彈性等於 1 (B) 彈性大於 1 (C) 彈性小於 1 (D) 無彈性 (E) 彈性無窮大。
6. 參考右圖，哪兩點之間的距離代表「短缺」？ (A) A 與 B (B) P_1 與 A (C) P_2 與 C (D) E 與 F (E) P_3 與 E。
7. (同上題) 當價格為 P_2 ，消費量為 Q_2 時，「消費者剩餘」是指 (A) GP_2 (B) HCP_2 (C) GCH (D) GCP_2 (E) HP_2 。
8. 下列何種情況下，商品增稅不會轉嫁到消費者身上？ (A) 需求完全不具彈性 (B) 需求彈性等於 1 (C) 法令強制生產者負責繳納稅款 (D) 供給完全不具彈性 (E) 以上皆非。
9. 短期時，當廠商停止生產不再營業時，其損失等於 (A) 變動成本 (B) 固定成本 (C) 邊際成本 (D) 邊際收入 (E) 總收入減去變動成本。
10. 平均成本(AC)與邊際成本(MC)的關係是 (A) 兩者相交於 MC 的最低點 (B) 兩者相交於 AC 的最低點 (C) 兩者相交於 AC 上升的部分 (D) 兩者相交於 AC 下降的部分 (E) B 與 C。
11. 獨占廠商 (A) 面臨負斜率的供給曲線 (B) 面臨水平的需求曲線 (C) 在需求與成本結構一致下，其產量較完全競爭廠商多 (D) 唯有降低價格才能增加銷售量 (E) 除非是法定特許的獨占事業，如過去的台鐵與台汽，否則利潤絕對不可能為負的。
12. 「獨占性競爭」市場與「完全競爭」市場主要的差異在，獨占性競爭市場 (A) 買方人數相對較少 (B) 賣方人數相對較少 (C) 市場需求線為負斜率 (D) 銷售的產品有差異性 (E) 長期可擁有正的經濟利潤，因存在進入障礙。
13. 不完全競爭廠商絞盡腦汁使產品異質化，其真正目的是 (A) 降低生產成本以增加利潤 (B) 使消費者的需求更富於彈性，以期增加銷售數量 (C) 使消費者的需求更缺乏彈性，以期增加對市場價格的影響力 (D) 刺激消費者的購買慾望 (E) 平均個別產品的生產成本，以分散風險。
14. 在「不完全競爭」市場中，如果潛在競爭的廠商發現該產業有利可圖且順利地加入競爭，則舊有既存的個別廠商所面對的需求曲線會 (A) 右移 (B) 左移 (C) 變成水平 (D) 變成垂直 (E) 不變。
15. 「寡占」市場最主要的特性是 (A) 買賣雙方對產品價格與品質有完全訊息 (B) 產品異質 (C) 廠商間的定價與生產策略相互影響非常大 (D) 非價格接受者 (E) 長期擁有經濟利潤。



南華大學九十三年學年度 碩士班 招生考試試題卷

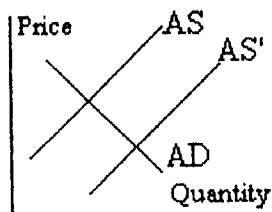
碩 士 班	系所別：經濟學研究所	科目編號：A3-12-06
	科目：經濟學原理 【本科目不得使用計算機】	試題紙第 <u>2</u> 頁共 <u>3</u> 頁

16. 當所有要素投入的邊際產出與要素價格的比值均相等時，表示此要素組合達到 (A)利潤極大 (B)成本極小 (C)邊際產出極大 (D)邊際產值等於要素價格 (E)A 與 B。
17. 如果勞動市場為一完全競爭市場，則廠商 (A)因競爭廠商多，要雇用更多的勞工投入生產，必須付更高的工資 (B)因勞動投入者眾，要雇用更多的勞工投入生產，只願付更低的工資 (C)在目前市場工資水準下，勞動供給彈性無窮大 (D)在目前市場工資水準下，勞動需求彈性無窮大 (E)在目前市場工資水準下，勞動需求無彈性。
18. 外部不經濟的存在會導致資源分配無法達到社會福利最大的原因是 (A)廠商不願追求利潤極大 (B)私人成本大於社會成本 (C)廠商並未負擔外部成本 (D)社會利益大於私人利益 (E)政府不當的管制，破壞價格機能。
19. 人們的經濟行為有外部成本時，市場運作的結果，其產量將比社會福利最大所應有的產量 (A)多 (B)少 (C)一樣 (D)不一定。
20. 一單位的牛肉、鞋子與麵包，若在美國生產分別需要 10、10 與 10 小時生產，在台灣則分別需要 12、11 與 13 小時。根據比較利益理論，兩國之間的貿易關係是 (A)美國不會出口牛肉到台灣 (B)美國不會出口鞋子到台灣 (C)美國不會出口麵包到台灣 (D)美國不會出口牛肉、鞋子或麵包到台灣 (E)無法判斷。
21. 國際貿易的結果是 (A)進口國的消費者剩餘增加，出口國的生產者剩餘增加 (B)出口國的消費者剩餘增加，進口國的生產者剩餘增加 (C)進口國與出口國的消費者剩餘均增加 (D)進口國與出口國的生產者剩餘均增加 (E)無法判斷。
22. 由支出面觀察我國國民生產毛額的組成，下列何者所占的比例最大？ (A)政府購買 (B)民間消費支出 (C)國內投資支出 (D)淨出口 (E)直接投資。
23. 下列何者不是衡量國民生產毛額所產生的問題？ (A)忽略休閒價值 (B)排除非市場經濟 (C)未包含所得稅 (D)忽略所得分配 (E)未考慮環境品質。
24. 下列哪一項不能包括在「國民生產毛額」內？ (A)農家自產自用的產品 (B)股市交易獲利 (C)中古車經銷商所得之佣金 (D)出口的工業原料 (E)房租支出。
25. 在簡單凱因斯模型中，如果投資需求下降 10 單位，會導致均衡所得下降 25 單位，則「邊際儲蓄傾向」必為 (A)0.1 (B)0.2 (C)0.25 (D)0.4 (E)以上皆非。
26. 如果 C+I 曲線較 C 曲線陡(橫軸為所得)，其中 C 代表消費函數，I 為投資函數，表示投資乘數 (A)較 $1/(1-MPC)$ 小 (B)等於 $1/(1-MPC)$ (C)等於 $MPC/(1-MPC)$ (D)較 $1/(1-MPC)$ 大 (E)無法判斷 (註：MPC 代表邊際消費傾向)。
27. 如果消費函數為 $C = 50 + 0.6Y$ ，則政府支出增加 10 單位且稅收增加 10 單位的結果，將會導致產出 (A)不變 (B)增加 10 單位 (C)增加 25 單位 (D)減少 10 單位 (E)減少 25 單位 此即所謂「平衡預算乘數」。
28. 官方公佈的失業率通常低估了真實的失業狀況，因為 (A)部分的就業人口有兩份給薪的工作 (B)忽略了勞動生產力的提昇 (C)未考慮工資結構的改變 (D)因長期找不到工作而放棄尋找的失業者被列為非勞動力 (E)低估了廣設大學造成的隱藏性失業。
29. 台灣近年失業率呈增加的趨勢，其主因為 (A)民間人力銀行的出現與線上求職的普及，增加了摩擦性失業 (B)產業轉型與外移所引起的結構性失業 (C)因廣設大學造成高學歷高失業率 (D)勞動參與率的提高 (E)外籍勞工的引進造成的排擠效果。

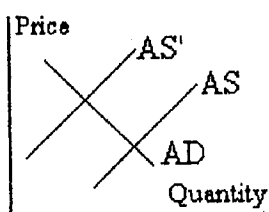
南華大學九十三年度 碩士班 招生考試試題卷

碩 士 班	系所別：經濟學研究所	科目編號：A3-12-06
	科目：經濟學原理 【本科目不得使用計算機】	試題紙第 <u>3</u> 頁共 <u>3</u> 頁

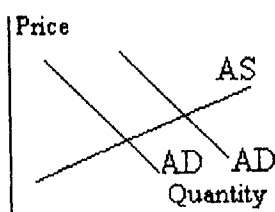
30. 物價指數的計算基期為 2000 年，今年的物價指數為 150，則 (A) 基期 100 元可購得的東西，今年須費 150 元 (B) 基期 1 元可購得的東西，今年須費 150 元 (C) 基期 150 元可購得的東西，今年須費 100 元 (D) 基期 100 元可購得的東西，今年須費 250 元 (E) 以上皆非。
31. 下列何者為真？ (A) 貨幣需求隨利率增加而增加 (B) 貨幣供給與貨幣需求共同決定物價 (C) 貨幣需求隨國民所得增加而增加 (D) 貨幣的唯一功能就是交易的媒介 (E) 中央銀行有完全控制貨幣供給的能力。
32. 在農曆年前，民間持有通貨之比率會提高而影響貨幣乘數，中央銀行為了穩定貨幣供給量，得 (A) 提高重貼現率，在公開市場買債券 (B) 提高法定準備率，在公開市場賣債券 (C) 降低法定準備率，降低重貼現率 (D) 降低法定準備率，在公開市場賣債券 (E) 在外匯市場拋售美元。
33. 水平的總合供給線 (A) 反應價格與工資的調整缺乏彈性 (B) 表示總和需求的改變無法影響總產出 (C) 隱含供給面的政策無法刺激景氣 (D) 可能出現在長期 (E) 當國際原油價格提高造成供給面的衝擊時，總合供給線會向下移動。
34. 政府若採擴張性的財政政策， (A) 應增加政府支出或稅收 (B) 會使均衡利率下降 (C) 會使均衡所得下降 (D) 會使物價上升 (E) 應增加貨幣供給。
35. 假設央行將外匯存底提出，並平均分配給每一個國民，則下列何者為非？ (A) 在浮動匯率下，當國民將外匯兌換台幣時，台幣升值 (B) 當國民將外匯兌換台幣時，央行為維持匯率穩定而進場干預，則貨幣供給減少 (C) 央行的外匯利息收入減少 (D) 若國人以所得外匯購買外國商品，將使貿易順差下降 (E) 在固定匯率制度下，幣值不受影響。
36. 甲國的物價膨脹率大於他國，代表 (A) 甲國幣值可能上昇 (B) 甲國幣值可能下跌 (C) 甲國實質利率高於他國實質利率 (D) 甲國名目利率高於他國名目利率 (E) A 與 C。
37. 中國政府將人民幣的匯率定為 8 元人民幣：1 美元，請問此「固定匯率制度」不會產生以下何種現象？ (A) 政府必須吸收所有外匯市場上的超額供給或超額需求 (B) 匯率經常被高估或低估 (C) 在此匯率制度下，政府必須常常干預外匯市場 (D) 在此匯率制度下，即使無政府干預，外匯市場永遠均衡 (E) 容易與鄰為壑，甚至遭致貿易報復。
38. 下列哪個總合供給(AS)與總合需求(AD)的變動圖形，最適合反應央行降息的效果？(註：AS'與AD'分別為變動後的AS與AD)



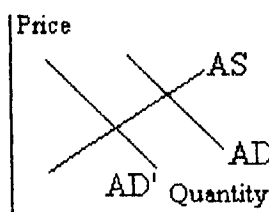
(A)



(B)



(C)



(D)

(E) 以上皆非。

39. (續上題) 何者最適合表示原料稅的降低造成總體經濟的影響？

40. 近日新台幣兌美元小幅升值，兌日元大幅貶值，這種匯率變動之情況對我國何種貿易廠商負面影響最大？ (A) 對美國出口其產品，並對美國進口其生產原料之廠商 (B) 對日本出口其產品，並對美國進口其生產原料之廠商 (C) 對美國出口其產品，並對日本進口其生產原料之廠商 (D) 對日本出口其產品，並對日本進口其生產原料之廠商 (E) 以上皆非。